



Espaço rural brasileiro

Capítulo 7

Estrutura fundiária brasileira

✓ Observe a charge.

1500



Hoje

Fonte: Adaptado de Michel Hagnerelle (org.). *L'espace mondial*. Paris: Magnard, 1998. p. 249.

Espaço rural brasileiro

Estrutura fundiária brasileira

A Coroa Portuguesa dividia a terra em **Sesmarias** (Légua Sesmaria equivalia a 6600 metros) até 1822.

Exemplo: No mesmo ano do início da concessão de sesmarias no Rio Grande do Sul - em 1732, em Tramandaí- os primeiros europeus e descendentes se estabeleceram na área do atual município de Porto Alegre (**496,827 km²**). Eram eles Jerônimo de Ornellas, Sebastião Francisco Chaves e Dionísio Rodrigues Mendes. (2)



Espaço rural brasileiro

De 1822 até 1850 a **posse da terra era livre**.

Em 1850 foi criada a **Lei das Terras**, que manteve as sesmarias antigas (latifúndios) e reconheceu as posses (glebas de pequena propriedade) já existentes e determinou a compra da terra como única maneira de se obter terras.

A **Lei das Terras** proibia os negros livres de terem acesso à terra e impedia que os imigrantes sem dinheiro a ocupassem também, obrigando-os a trabalhar como assalariado nas lavouras de café.

Muitos movimentos camponeses se organizaram em defesa de melhores oportunidades de acesso à terra. Na **década de 1950** esses movimentos se tornaram mais fortes e organizados e **defendiam a reforma agrária**.

Revolução de 1964 os militares editam o Estatuto da Terra que privilegiou os latifundiários agroexportadores. Com isso:

Aumentou a miséria no campo e proporcionou a saída dos trabalhadores rurais.

Fim do Regime militar 1985: Plano Nacional de Reforma Agrária.

Assembléia Constituinte de 1988 proibiu a desapropriação de terra produtivas.

1984 foi fundado o Movimento dos Trabalhadores Rurais Sem-Terra (MST).

Espaço rural brasileiro

Latifúndios: acima de 1 000 ha.

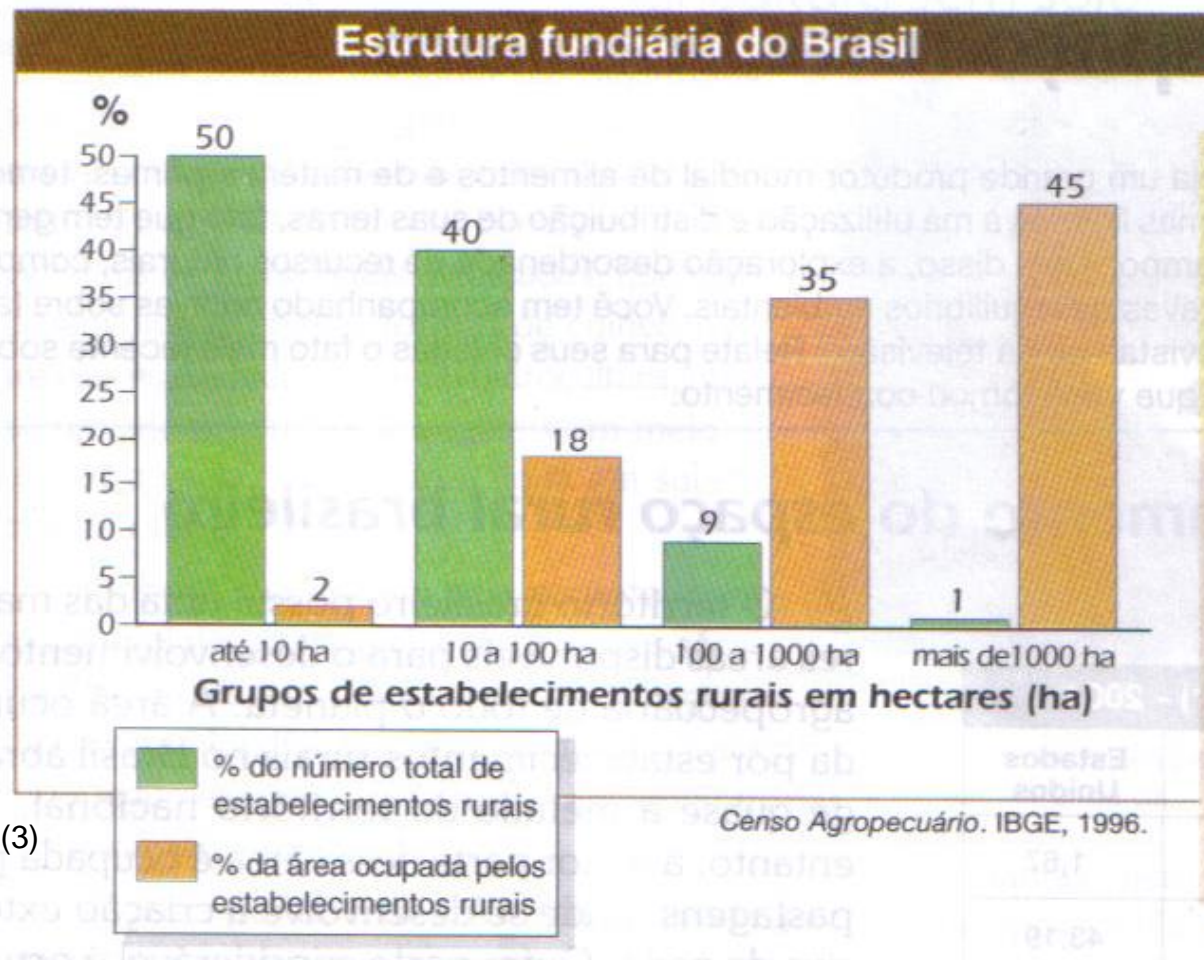
Minifúndios: até dez ha.

Causas da concentração fundiária no Brasil:

1- **Expropriação**, ou seja, a perda da propriedade rural pelos pequenos agricultores que, endividados, acabam utilizando suas terras como pagamento de dívidas contraídas em bancos ou vendendo para empresas e grandes fazendeiros.

2- **mecanização** das lavouras que passaram a substituir a mão-de-obra.

3- **Estatuto do Trabalhador Rural**, de 1963, que estabeleceu os mesmos benefícios trabalhistas dos trabalhadores urbanos (salário mínimo, 13º salário, férias remuneradas entre outros).



(3)

Esses fatores contribuíram para que milhões de pessoas deixassem o campo em busca de melhores condições de vida nas cidade: **êxodo rural**.

Espaço rural brasileiro

Exercícios com respostas

1- Quais as características da agricultura de subsistência quanto à propriedade e a produção? (pág. 123)

Resposta: **pequena propriedade, trabalho familiar, produção para o consumo e o excedente comercializado.**

2- Quais são as características da agricultura comercial quanto à propriedade e a produção? (pág. 124)

Resposta: **grandes e médias propriedades e agricultura comercial monocultora exportadora. São lavouras mecanizadas e com grandes capitais aplicados.**

3- O que podemos entender por Lei das terras? Explique (pág. 125)

Resposta: **a partir de 1850 foi editado no Brasil a Lei da Terras, determinando que a terra só seria adquirida pela compra, acabando com o sistema de posse.**

Espaço rural brasileiro

Exercícios com respostas

4- O que são sesmarias? (pág. 125)

Resposta: eram grandes extensões de terras doadas pelo rei de Portugal às pessoas de sua confiança e que tivessem recursos para explorá-las.

5- Quando surgiu o Estatuto da Terra? Quem se beneficiou e quem não se beneficiou com o Estatuto? Explique. (pág. 126)

Resposta: o Golpe Militar de 1964 editou o Estatuto da Terra, que privilegiou os latifundiários agroexportadores, financiando a mecanização da produção. Tal política contribuiu ainda mais para a miséria no campo, impulsionando a saída dos trabalhadores rurais para a cidade.

6- Qual o significado da sigla MST? Quais os objetivos das invasões dos MST? Explique.

Resposta: em 1984 foi fundado o MST – Movimento dos Trabalhadores Rurais Sem-Terra. O MST promove ocupações provisórias em fazendas improdutivas, como forma de pressão para que o governo acelere o processo da reforma agrária no país.

Espaço rural brasileiro

Exercícios com respostas

7- Leia os textos da pág. 128 e responda as questões propostas.

1- O que os dois textos apresentam em comum?

Resposta: Os dois textos tratam da concentração de terras no Brasil; grandes propriedades, com áreas maiores que alguns países, nas mãos de poucos proprietários.

2- Em sua opinião, que consequências o processo retratado traz para a população?

Resposta: A concentração de grandes propriedade nas mãos de poucos proprietários provocam desemprego, desigualdade social, e diminui a possibilidade dos trabalhadores rurais terem acesso à terra para produzir.

3- Você concorda com essa situação mostrada? Por quê?

Resposta: resposta pessoal do aluno.

Espaço rural brasileiro

Produção agrícola – cap. 7. págs. 128 à 133

Exercícios

- 1- Quais foram os fatores naturais que contribuíram para o desenvolvimento da cana-de-açúcar na costa brasileira?
- 2- Explique a passagem do engenho para a usina canavieira. Quem é o usineiro?
- 3- O que é o projeto Proálcool? Quando surgiu e por que surgiu?
- 4- Quais foram os fatores naturais que contribuíram para a expansão do café a partir da segunda metade do século XIX?
- 5- Qual a relação entre café e ferrovias?
- 6- Faça uma análise do gráfico Participação do café nas exportações brasileiras (1950 – 2000) explicando a queda da participação do café nas exportações.
- 7- Existe alguma relação entre o Estatuto da Terra e a produção de soja no Brasil? Explique detalhadamente.

Espaço rural brasileiro

Produção agrícola – cap. 7. págs. 128 à 133

Exercícios com respostas

1- Quais foram os fatores naturais que contribuíram para o desenvolvimento da cana-de-açúcar na costa brasileira?

Resposta: clima quente e úmido, solo fértil (massapé) e terreno plano foram fundamentais para o desenvolvimento da cana na costa litorânea dessa região (Zona da Mata nordestina).

2- Explique a passagem do engenho para a usina canavieira. Quem é o usineiro?

Resposta: em meados do século XX os engenhos começaram a dar lugar às usinas, que utilizavam eletricidade, máquinas modernas e concentravam cada vez mais terras sob seu domínio.

3- O que é o projeto Proálcool? Quando surgiu e por que surgiu?

Resposta: a crise do petróleo, em 1973, provocou um aumento significativo do preço da gasolina e levou o governo brasileiro a criar, em 1975, o Proálcool. Esse projeto teve como objetivo a produção de álcool combustível para substituir a gasolina e reduzir a importação do petróleo.

Espaço rural brasileiro

Exercícios com respostas

4- Quais foram os fatores naturais que contribuíram para a expansão do café a partir da segunda metade do século XIX?

Resposta: solos férteis (terra roxa), clima favorável e topografia suave (região: oeste Paulista e sul de MG).

5- Qual a relação entre café e ferrovias?

Resposta: com o objetivo de ampliar o escoamento da produção até o porto de Santos, foi construída uma malha ferroviária que dinamizou o crescimento de cidades como Ribeirão Preto, Barretos, São José do Rio Preto, Bauru, Araraquara, entre outras.

6- Faça uma análise do gráfico Participação do café nas exportações brasileiras (1950 – 2000) explicando a queda da participação do café nas exportações.

Resposta: Na década de 1950, o café chegou a ser responsável por 75% das exportações do país. No entanto, a crise da cafeicultura levou outras atividades econômicas, como a indústria, o comércio e os bancos, a ganhar força na estrutura do espaço geográfico brasileiro.

Espaço rural brasileiro

Exercícios com respostas

7- Existe alguma relação entre o Estatuto da Terra e a produção de soja no Brasil? Explique detalhadamente.

Resposta: Sim, O Estatuto da Terra privilegiou os latifundiários agroexportadores, financiando a mecanização da produção. Observa-se o incentivo a partir da década de 1970, quando grandes investimentos foram feitos em mecanização, melhorias genéticas das espécies e utilização maciça de agrotóxicos, devido aos grandes incentivos fiscais por parte do governo.


Complemento importante: estudar os vocabulário do livro. Ou seja, as palavras em vermelho.

Espaço rural brasileiro

Pecuária brasileira – Cap. 7. pág. 139

Pecuária: criação de determinados rebanhos. Pode se desenvolver em dois sistemas: o extensivo e o intensivo.

Sistema extensivo: gado é criado solto no pasto, exige-se muita terra e utiliza-se pouco mão-de-obra. A qualidade e a produtividade podem ser baixas, pois se perdem muitos animais em virtude de doenças.



Sistema intensivo: o gado é confinado em estábulos, podendo ser criado também em pequenas propriedades; utiliza-se mão-de-obra especializada e há grande investimento em tecnologia.

Espaço rural brasileiro

Política agrícola e pecuária – cap. 7. págs. 138 e 139

Uso da Terra e tensão no campo – págs. 116 e 117

Exercícios

1- Explique o modelo agrícola adotado pelo Brasil a partir da década de 1970. Qual o slogan que justifica tal modelo?

Respostas: O modelo adotado a partir da década de 1970 foi responsável pelo crescimento das áreas de monoculturas comerciais voltadas para a exportação, acentuando ainda a concentração de terras nas mãos de poucas pessoas e a ocupação dos melhores solos.

2- Faça um resumo destacando as vantagens e as desvantagens desse modelo para a sociedade e para a economia brasileira.

Vantagens: estimulou a entrada de dólares no país, possibilitando o equilíbrio da balança comercial.

Desvantagens: aumento dos custos dos alimentos à medida que as áreas de cultivo dos produtos foram sendo reduzidas; não existiu uma política de apoio aos pequenos e médios agricultores.

Espaço rural brasileiro

Política agrícola e pecuária – cap. 7. págs. 138 e 139

Uso da Terra e tensão no campo – págs. 116 e 117

Exercícios

3- Procure estabelecer uma relação entre o modelo adotado e o movimento dos Trabalhadores Rurais sem Terra – MST. Explique com argumentos do texto (pág. 126).

Resposta: A política agrícola de investimentos no setor provocou a expulsão dos trabalhadores do campo; Os trabalhadores foram substituídos por máquinas ou contratados somente em caráter temporário e, ainda, perderam suas terras (por dívida, falta de incentivo, entre outras coisas). Dentro desse contexto é que surge o movimento dos trabalhadores rurais sem-terra, o MST.

4- Por que o sistema intensivo apresenta uma produtividade maior do que o sistema extensivo? Explique.

Resposta: O sistema intensivo utiliza mão-de-obra especializada e grande investimento em tecnologia possibilitando maiores cuidados com higiene, saúde, alimentação e com isso maior produtividade e melhor qualidade.

Espaço rural brasileiro

Política agrícola e pecuária – cap. 7. págs. 138 e 139

Uso da Terra e tensão no campo – págs. 116 e 117

Exercícios

5- Indique três estados onde os assentamentos foram maiores.

Resposta: Os três estados onde os assentamentos foram maiores são: Maranhão, Pará e Mato Grosso.

6- É possível afirmar que onde predomina pecuária extensiva coincide com áreas com concentração de terras muito alta? Justifique sua resposta com exemplos.

Resposta: Sim. Em todos os estados com concentração de terras altas predomina a pecuária extensiva. São eles: Mato Grosso, Maranhão, Piauí e Alagoas.

Bibliografia

1.

Geografia e sociedade. Escala editorial, vol. 2, Martins, Bigotto e Vittiello. 2006.

2.

http://images.google.com.br/imgres?imgurl=http://cafecomhistoria.zip.net/images/sesmarias.jpg&imgrefurl=http://cafecomhistoria.zip.net/arch2008-03-01_2008-03-31.html&h=2102&w=1440&sz=747&hl=pt-BR&start=22&um=1&usg=__GlatDbJ5TNrupgQRMb5mZJr-tql=&tbnid=68pE06bHV8dfGM:&tbnh=150&tbnw=103&prev=/images%3Fq%3Dsesmarias%2Bno%2BBrasil%26start%3D20%26ndsp%3D20%26um%3D1%26hl%3Dpt-BR%26rlz%3D1T4GGLL_pt-BR%26sa%3DN

3. Geografia – Espaço e vivência. Boligian, Martinez, garcia e Alves. Ed. Atual